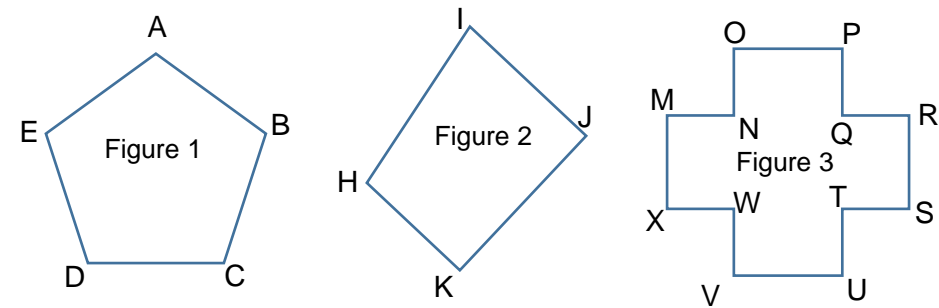


Exercice 1 :

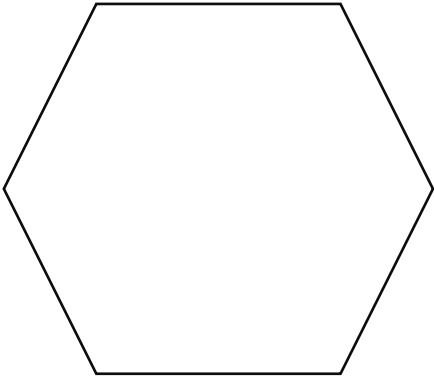
Observe les polygones et complète le tableau :



	Nombre de côtés	Nombre de sommets	Nom du polygone
Figure 1			
Figure 2			
Figure 3			

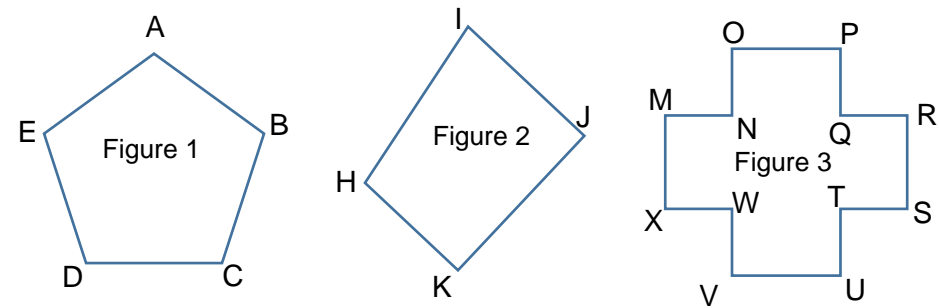
Exercice 2 :

Trace les diagonales de cet hexagone :



Exercice 1 :

Observe les polygones et complète le tableau :



	Nombre de côtés	Nombre de sommets	Nom du polygone
Figure 1			
Figure 2			
Figure 3			

Exercice 2 :

Trace les diagonales de cet hexagone :

